

1. **ZAKRUŽI DA** AKO JE TVRDNJA TOČNA.

ZAKRUŽI NE AKO TVRDNJA NIJE TOČNA.

NACIONALNA KNJIŽNICA JEST USTANOVA U KOJOJ SE ČUVA
STAR PAPIR.

DA

NE

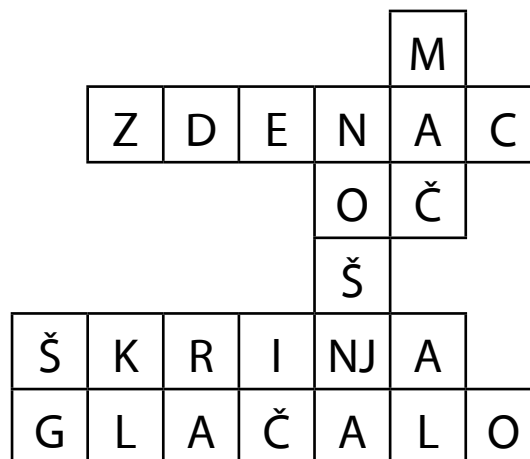
KULTURNO-POVIJESNE SPOMENIKE TREBA ČUVATI ZA POTOMKE.

DA

NE

2. **PRONAĐI I OBOJI** NAZIVE PREDMETA

GLAČALO, MAČ, NOŠNJA, ŠKRINJA, ZDENAC.



DOPUNI REČENICU.

TI SE PREDMETI ČUVAJU U _____.

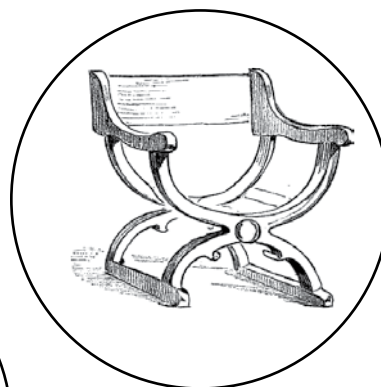


KNJIŽNICAMA / MUZEJIMA

3. **DOPUNI REČENICU.**

VRIJEDNE GRAĐEVINE I PREDMETE IZ PROŠLOSTI NAZIVAMO

KULTURNO-POVIJESNIM _____.
SPOMENICIMA / ZGRADAMA

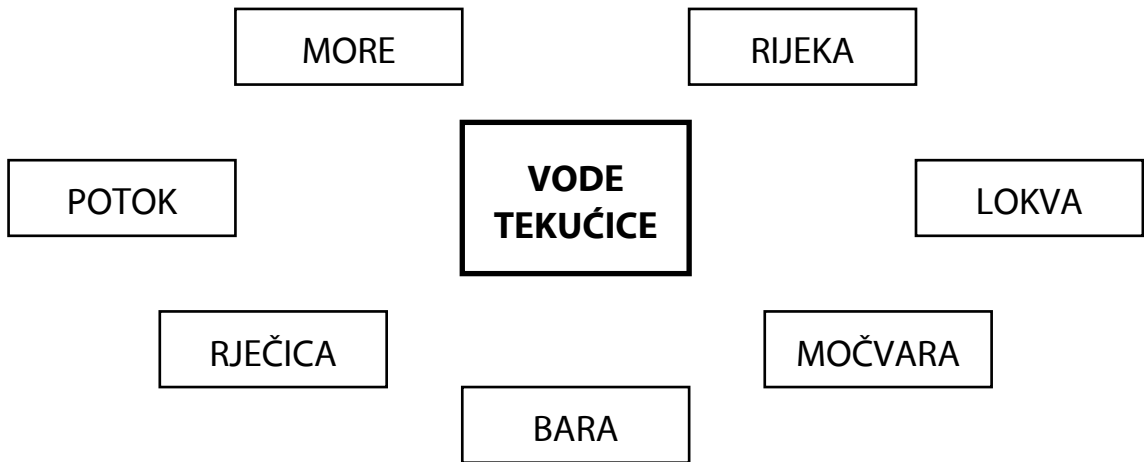
4. **SPOJI CRTEŽE PREDMETA KOJI SE ČUVAJU U MUZEJU.**





17. VODE TEKUĆICE I ŽIVI SVIJET U NJIMA

NASTAVNI LISTIĆI

1. **SPOJI** NAZIVE VODA TEKUĆICA.



2. **OBOJI** CRTEŽ ZAŠTIĆENE ŽIVOTINJE.

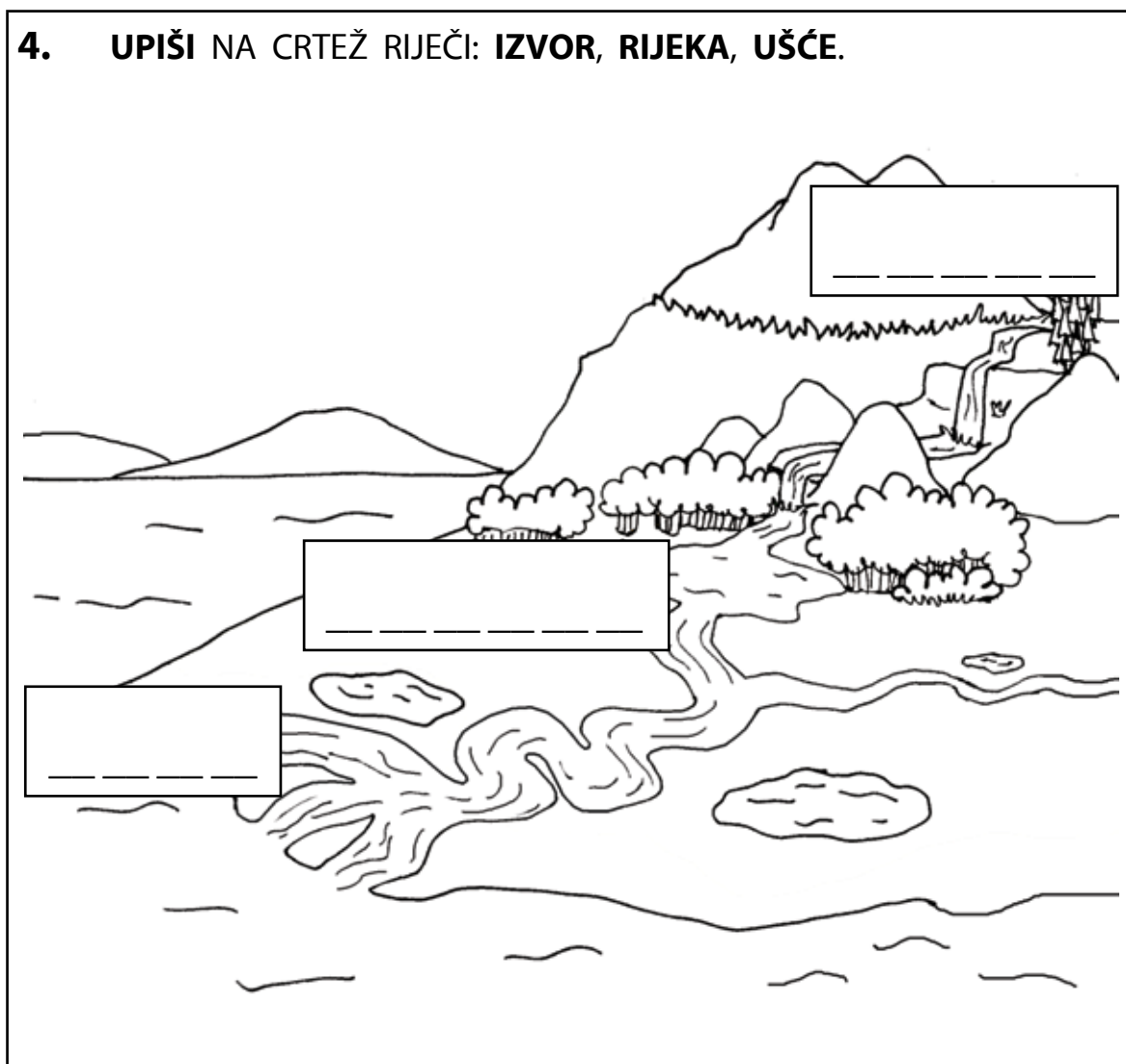


3. **OBOJI** KVADRATIĆ AKO JE TVRDNJA ISTINITA.

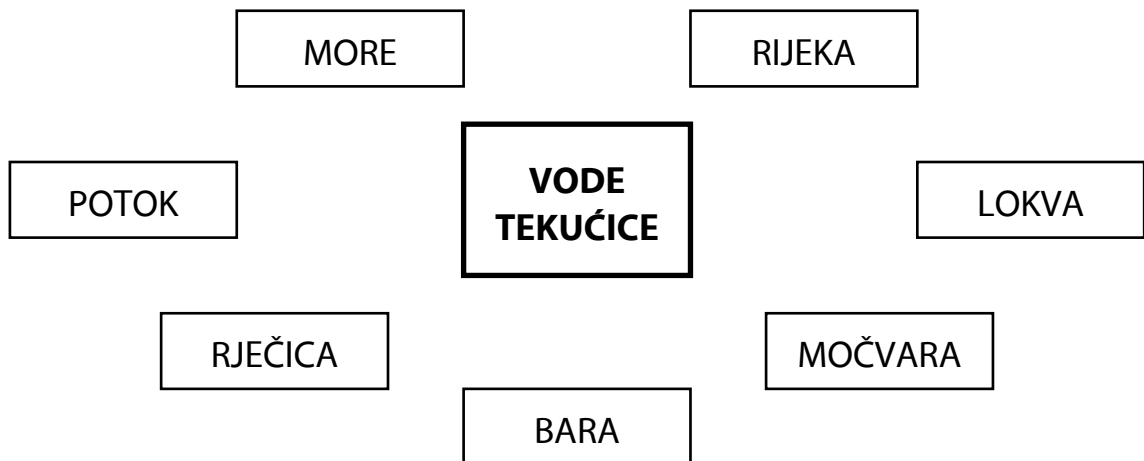
TEKUĆICE SU VODE KOJE NE TEKU NEGO MIRUJU.

UZ OBALU TEKUĆICA ČESTO RASTU VRBE I TOPOLE.

4. UPIŠI NA CRTEŽ RIJEČI: IZVOR, RIJEKA, UŠĆE.




1. **SPOJI** NAZIVE VODA STAJAĆICA.



2. **OBOJI** KVADRATIĆ AKO JE TVRDNJA ISTINITA.

- STAJAĆICE SU VODE KOJE TEKU.
- STAJAĆICE SU VODE KOJE NE TEKU NEGO MIRUJU.

3. **OBOJI** CRTEŽ NAJGLASNIJEG STANOVNIKA BARE.

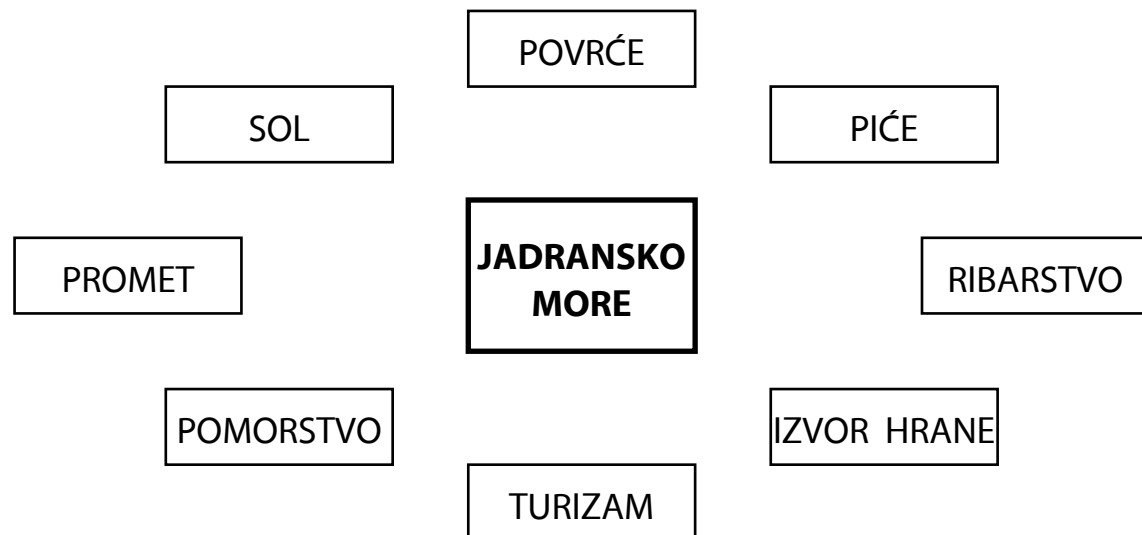


4. **RAZVRSTAJ U TABLICU SLJEDEĆE RIJEČI:**

LOPOČ, PASTRVA, ROGOZ, SOM, TOPOLA, VIDRA, VRBA, ŽABA.

VODE STAJAĆICE	VODE TEKUĆICE

1. **POVEŽI** NAZIV JADRANSKO MORE S KORISTIMA OD NJEGA.



2. **OBOJI** KVADRATIĆ AKO JE TVRDNJA ISTINITA.

ŠARAN ŽIVI U JADRANSKOM MORU.

GALEB JE PTICA KOJA ŽIVI UZ MORE.

3. **DOPUNI** REČENICE.

HOBOTNICA, SRDELA I SKUŠA ŽIVE U _____.
MORU / RIJEKAMA

VRLO RIJETKA I ZAŠTIĆENA ŽIVOTINJA KOJA ŽIVI U NAŠEM MORU
JEST SREDOZEMNA _____.
LAVICA / MEDVJEDICA

4. POVEŽI OSOBINE MORSKE OBALE.

**MORSKA
OBALA**

CESTE

PISTE

UVALE

OTOCI I OTOČÍCI

ZALJEVI

POLUOTOCI

20. ZNAČENJE VODE ZA ŽIVOT LJUDI

NASTAVNI LISTIĆI

1. POVEŽI.

ZA VODENI PROMET

ZA PISANJE

ZA HIGIJENU

ZA KUHANJE

VODA SLUŽI

ZA PIĆE

ZA VODENE SPORTOVE

2. OBOJI TOČNU TVRDNJU.

OTPADNE VODE ONEŠČIŠĆUJU VODU.

SVE JE VIŠE PITKE VODE.

3. ZAOKRUŽI SLOVO ISPRED TOČNOG ODGOVORA.

KAKO SE TVOJE MJESTO OSKRBLJUJE VODOM?

- a) IZ BUNARA
- b) IZ CISTERNE
- c) VODOVODOM

4. OBOJI CRTEŽ KOJI PRIKAZUJE KAKO TREBA ŠTEDJETI VODU.

